

الوحدة الثالثة: الموارد الاقتصادية لدول الخليج العربية

أ. الثروة النفطية

بدا التنقيب عن النفط في دولة الكويت عامم في الحقول الشمالية بحقل يسمى.....

ولا

ثانيا

✓ ثم انتقل البحث والتنقيب عن النفط إلى حقول النفط الجنوبية (علل ؟)



فرق بين المفاهيم التالية من حيث المفهوم (التعريف)

انتاج النفط

احتياط النفط



ثالثا

رابعا

الدولة الخليجية التي تحتل المركز الأول في انتاج النفط عام ٢٠٠٨ م تسمى.....

تبلغ نسبة انتاج الكويت من النفط عام ٢٠٠٨ م حوالي.....%

أ. الثروة النفطية

الوحدة الثالثة: الموارد الاقتصادية لدول الخليج العربية



قيام دول الخليج العربية بإقامة العديد من الموانئ النفطية (**علل**)



تم تصدير أول شحنة من النفط الكويتي عام في عهد الشيخ رحمة الله

أ-

ب-

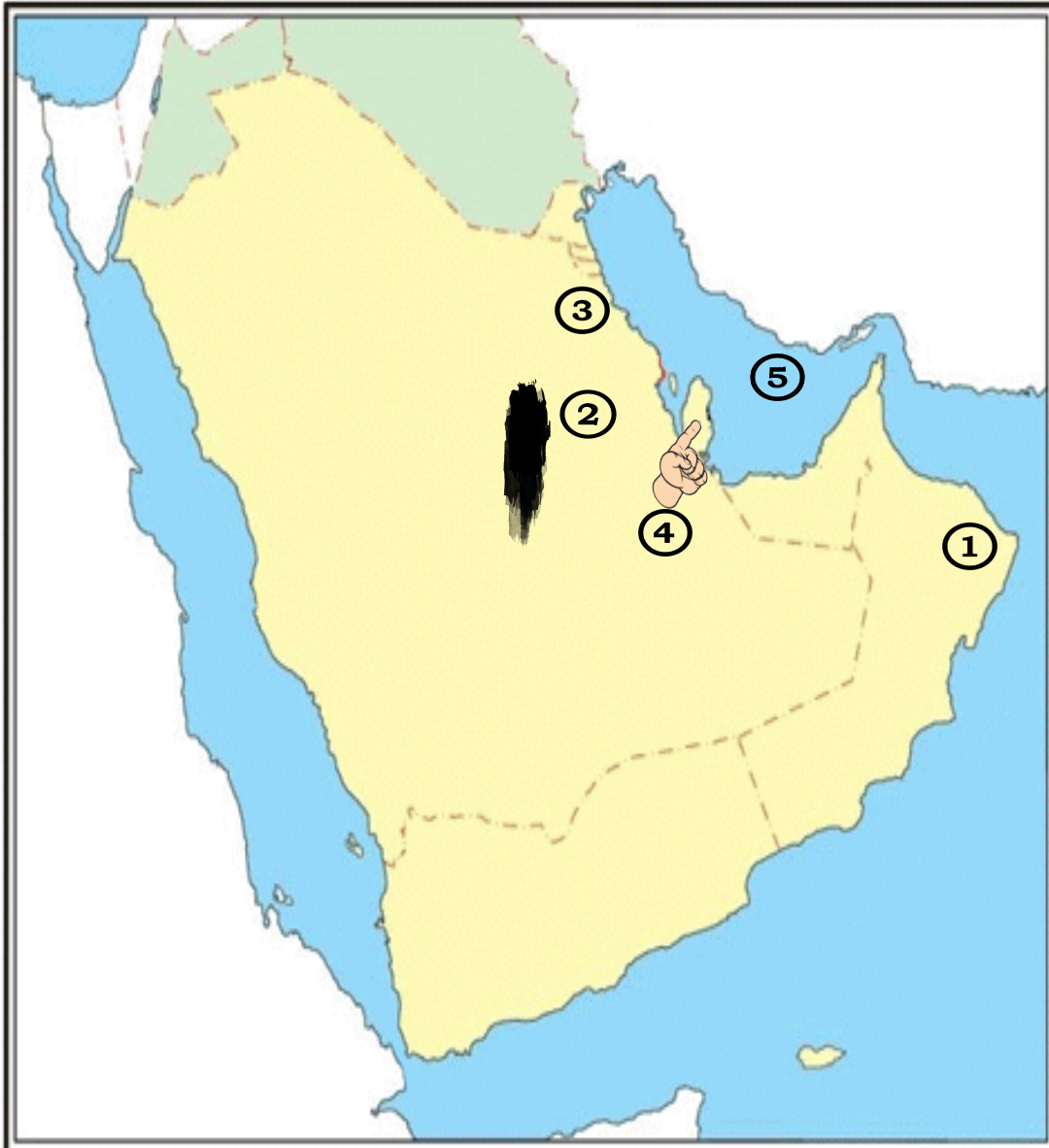
أهم الدول المستوردة للنفط الكويتي :



أكمل تصنيف حقول و موانئ تصدير النفط لدول الخليج العربية

الدولة	الإمارات	البحرين	السعودية	عمان	الكويت	قطر
حقول النفط	عوالي	خريص- الغوار - بقيق - السفانية	برقان - بحرة - الروضتين
ميناء تصدير النفط	جبل الظنة المبرز حائل - داس	الفلح	امسيعيد

الرجوع الى خريطة الكتاب المدرسي ص ٩١



الموارد الاقتصادية لدول
الخليج العربية :-
3 . تصدير النفط



لأنك من الأذكىء وسريع
حدد على الخريطة :

* رقم ١ يمثل ميناء يسمى.....

* رقم ٢ يمثل حقل نفطي يسمى.....

* رقم ٣ يمثل ميناء يسمى.....

* رقم ٤ يمثل حقل نفطي يسمى.....

* رقم ٥ يمثل مسطح مائي يسمى.....

ب- الموارد الزراعية

الوحدة الثالثة: الموارد الاقتصادية لدول الخليج العربية



.....للمملكة العربية السعودية تجربة رائدة في انتاج محصول زراعي يسمى.....



حقائق عن الموارد الزراعية

بيوت بلاستيكية

زراعة بدون تربة



التغلب على الصعوبات التي تواجه الزراعة في معظم دول الخليج

=

+



مفهومها :
.....
.....

مفهومها :
.....
.....

عمان



الامارات



السعودية



الكويت



المناطق الزراعية
في دول الخليج

ب- الموارد الزراعية

الوحدة الثالثة: الموارد الاقتصادية لدول الخليج العربية

اختر الاجابة التي لا تنتمي للمجموعة

العبدلي

سهل الباطنة

المناطق الزراعية في
دولة الكويت

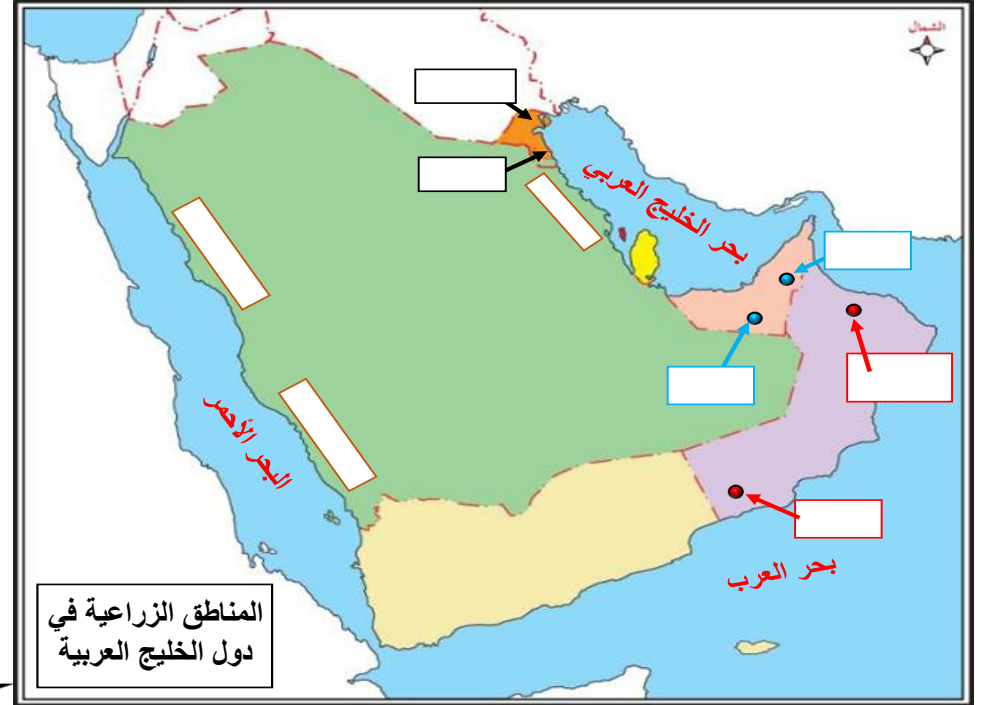
الوفرة

المنتجات الزراعية

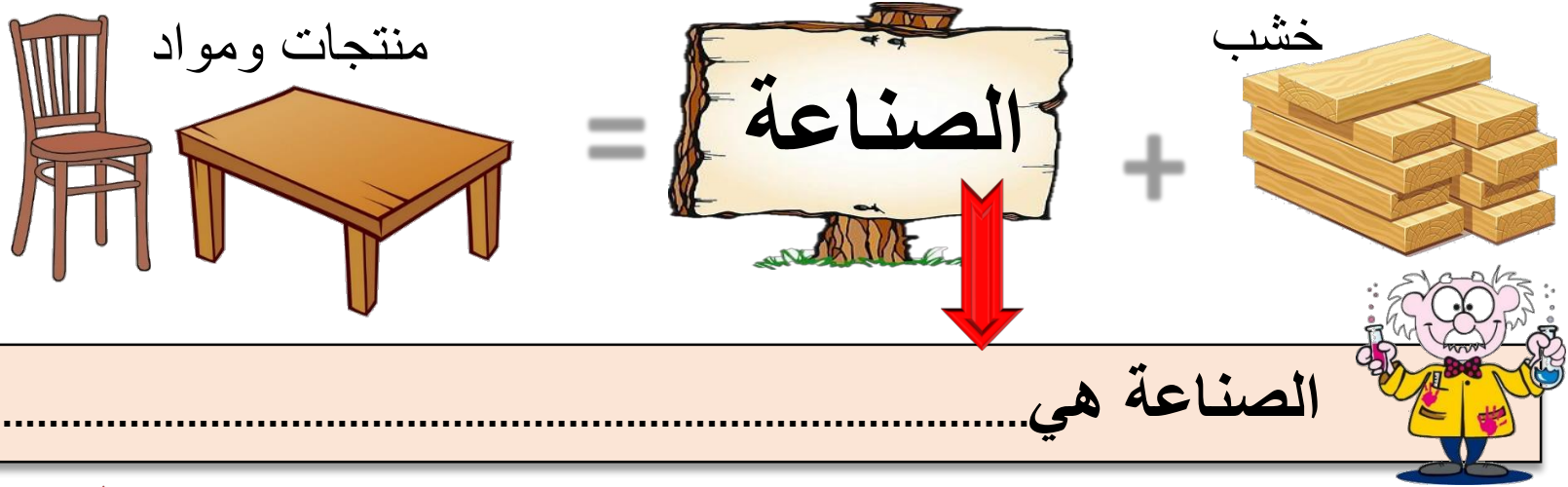


قوي الصف
السادس . . ساعد
المزارع خالد في
تحديد أسماء
المناطق الزراعية
في دول الخليج
العربية على
الخريطة التي أمامك

ك م ص ٩٣ + ٩٢



المناطق الزراعية في
دول الخليج العربية



الدخل القومي

لاكتشاف النفط وتصديره أهمية في تطور دول الخليج واقتصادها ، واثري في

((علل)) اهتمام دول الخليج العربية بالتوسع بصناعة تكرير النفط

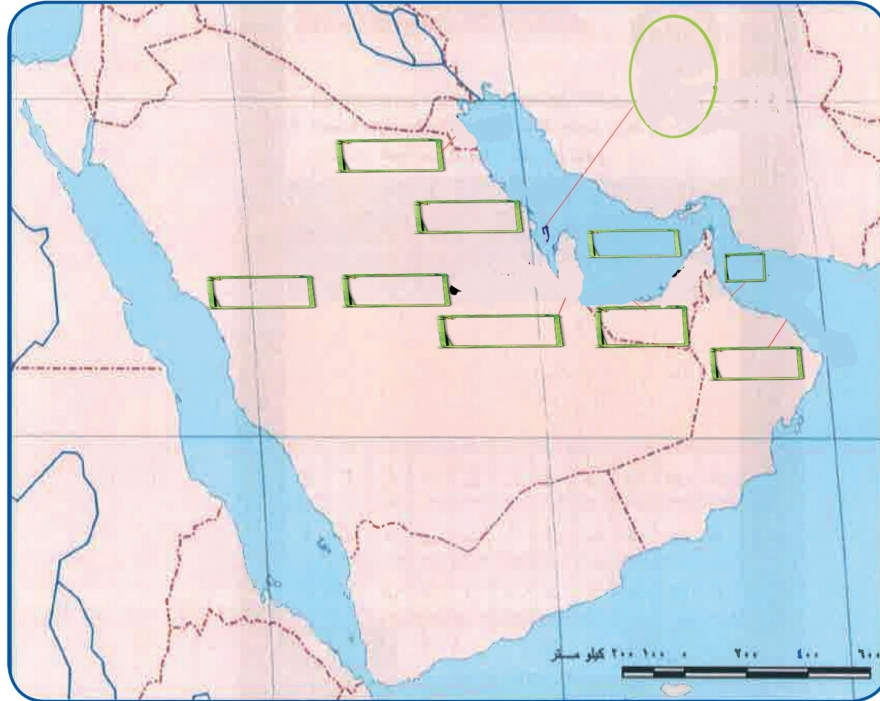
الرجوع إلى خريطة وجدول الصناعات والمناطق الصناعية في دول الخليج العربية ك م ص ٩٧+٩٦

ج الموارد الصناعية



الدولة	الرقم المناسب	المناطق الصناعية
١- الكويت		الجبيل - الرياض
٢- السعودية		الاسترة
٣- الامارات		امسيعد
٤- قطر		الشعبية
٥- البحرين		الفحل - صحار
٦- عمان		الرويس - جبل علي


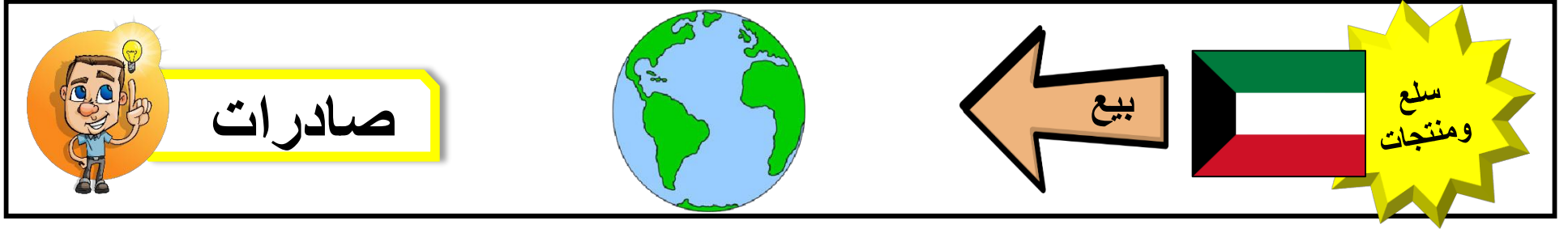
صل بين الدولة
الخليجية والمناطق
الصناعية فيها
بوضع الرقم المناسب



حدد أسماء المناطق
الصناعية في دول
الخليج العربية على
الخريطة أمامك !

د- الموارد التجارية

الوحدة الثالثة: الموارد الاقتصادية لدول الخليج العربية



.....الصادرات هي.

.....الواردات هي.

.....الترانزيت هو.